

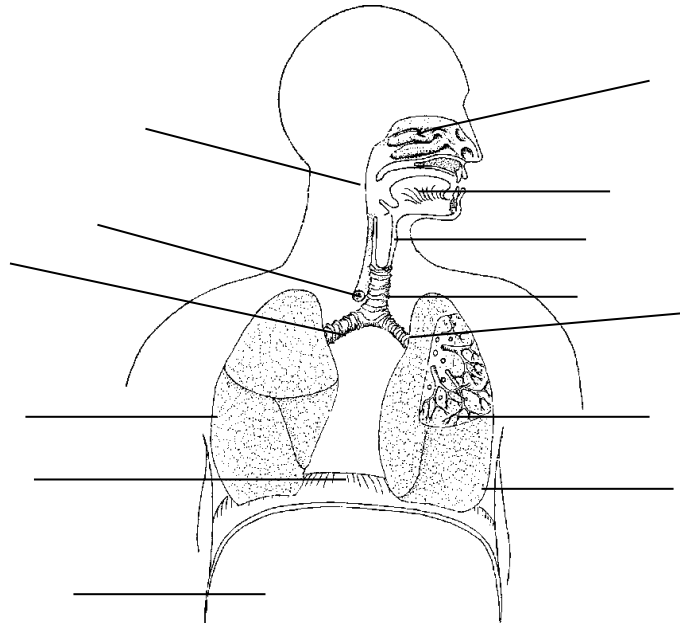
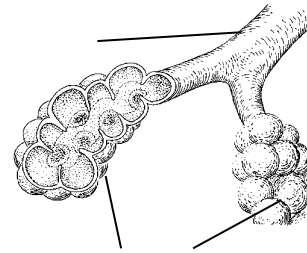
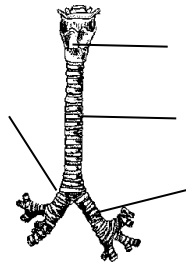
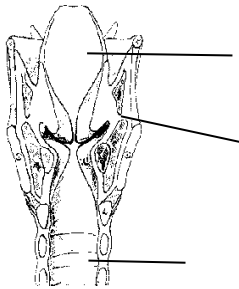
Alumno/a 3º Fecha

1. ¿Por qué morimos si nos falta el oxígeno del aire.?

.....
.....
.....



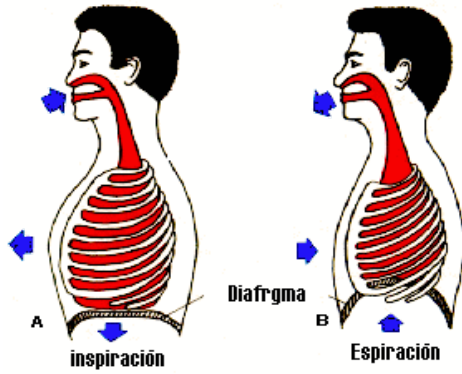
2. Indica todos los **nombres** que puedas en estos dibujos:



3. Describe el **recorrido detallado** de una molécula de oxígeno (O_2) desde que es inspirada en el aire hasta que llega a una célula del dedo gordo de tu pie derecho.

.....
.....
.....
.....
.....

4. **Explica con palabras** este dibujo:



.....

.....

.....

.....

.....

.....

.....

5. **Completa** las siguientes frases:

El proceso de entrada de _____ a los pulmones se llama _____. El _____ cede _____ a la sangre en los _____. La salida de _____ al exterior es la _____. La _____ se produce por aumento del _____ de los pulmones.

6. Completa esta tabla con **cinco enfermedades que afecten al aparato respiratorio**

Nombre de la enfermedad	¿Es infecciosa?	Órgano u órganos afectados	Algunos síntomas y signos	Cómo puede prevenirse